

Sr. No. 10277

Total No. of Printed pages : 35

(DO NOT OPEN THIS QUESTION BOOKLET BEFORE TIME OR UNTIL YOU ARE ASKED TO DO SO)

**PG-EE-2013  
ECONOMICS**

Code

**A**

Time : 1¼ hours

Max. Marks : 100

Total Questions : 100

Roll No. \_\_\_\_\_ (in figure) \_\_\_\_\_ (in words)

Name \_\_\_\_\_ Father's Name \_\_\_\_\_

Mother's Name \_\_\_\_\_ Date of Examination : \_\_\_\_\_

(Signature of the candidate)

(Signature of the Invigilator)

**CANDIDATES MUST READ THE FOLLOWING INFORMATION / INSTRUCTIONS  
BEFORE STARTING THE QUESTION PAPER.**

1. All questions are compulsory and carry equal marks.
2. The candidate must return the Question book-let as well as OMR answer-sheet to the Invigilator concerned before leaving the Examination Hall, failing which a case of use of unfair-means / misbehaviour will be registered against him / her, in addition to lodging of an FIR with the police. Further the answer-sheet of such a candidate will not be evaluated.
3. In case there is any discrepancy in any question(s) in the Question Booklet, the same may be brought to the notice of the Controller of Examinations in writing within two hours after the test is over. No such complaint(s) will be entertained thereafter.
4. The candidate MUST NOT do any rough work or writing in the OMR Answer-Sheet. Rough work, if any, may be done in the question book-let itself. Answers MUST NOT be ticked in the Question book-let.
5. Use only blue or black **BALL POINT PEN** of good quality in the OMR Answer-Sheet.
6. There will be no negative marking. Each correct answer will be awarded one full mark. Cutting, erasing, overwriting and more than one answer in OMR Answer-Sheet will be treated as incorrect answer.
7. BEFORE ANSWERING THE QUESTIONS, THE CANDIDATES SHOULD ENSURE THAT THEY HAVE BEEN SUPPLIED CORRECT AND COMPLETE BOOK-LET. COMPLAINTS, IF ANY, REGARDING MISPRINTING ETC. WILL NOT BE ENTERTAINED 30 MINUTES AFTER STARTING OF THE EXAMINATION.



Question No.	Questions
1.	<p>If cash reserve ratio is increased by RBI, it will lead to</p> <p>(1) decrease in money supply  (2) increase in money supply  (3) inflation  (4) none of these</p> <p>यदि RBI द्वारा नकद संचय अनुपात बढ़ा दिया जाता है, तो यह ले जाएगा</p> <p>(1) मुद्रा आपूर्ति में कमी की ओर      (2) मुद्रा आपूर्ति में वृद्धि की ओर  (3) मुद्रास्फीति की ओर                      (4) इनमें से कोई नहीं की ओर</p>
2.	<p>If currently one British Pound exchanges for Rs. 80, appreciation of rupee will imply</p> <p>(1) One British Pound will be available for less than Rs. 80.  (2) One British Pound will be available for more than Rs. 80.  (3) Studying in Britain will become costlier for Indians.  (4) None of these.</p> <p>यदि वर्तमान में एक ब्रिटिश पाउण्ड का विनिमय 80 रु. में होता है, रुपये की मूल्यवृद्धि का मतलब होगा</p> <p>(1) एक ब्रिटिश पाउण्ड 80 रु. से कम में उपलब्ध होगा  (2) एक ब्रिटिश पाउण्ड 80 रु. से अधिक में उपलब्ध होगा  (3) भारतीयों के लिए ब्रिटेन में पढ़ाई महंगी हो जाएगी  (4) इनमें से कोई नहीं</p>
3.	<p>Progressive tax policy implies greater reliance on</p> <p>(1) Excise tax                                      (2) Indirect taxes  (3) Income tax                                      (4) None of these</p> <p>प्रगतिशील कर नीति निम्न पर वृहद्तम अवलंब को इंगित करता है</p> <p>(1) उत्पाद कर                                      (2) अप्रत्यक्ष कर  (3) आयकर    (4) इनमें से कोई नहीं</p>

Question No.	Questions
4.	<p>Say's Law implies</p> <p>(1) demand creates its own supply  (2) supply creates its own demand  (3) both of the above  (4) none of these</p> <p>से का नियम इंगित करता है</p> <p>(1) मांग इसकी आपूर्ति स्वयं बनाता है  (2) आपूर्ति अपनी मांग स्वयं बनाता है  (3) उपरोक्त दोनों  (4) इनमें से कोई नहीं</p>
5.	<p>Increase in usage of credit cards will lead to demand for money</p> <p>(1) Increasing (2) No effect  (3) Decreasing (4) None of these</p> <p>क्रेडिट कार्ड के उपयोग में वृद्धि मुद्रा के लिए मांग की _____ की ओर ले जाएगा</p> <p>(1) वृद्धि (2) अप्रभावित  (3) कमी (4) इनमें से कोई नहीं</p>
6.	<p>If an agricultural farm has work for only 4 persons and five members of a family work on this farm, it is a case of</p> <p>(1) disguised unemployment (2) open unemployment  (3) full employment (4) over employment</p> <p>यदि एक कृषि फार्म के पास केवल 4 व्यक्तियों के लिए काम है तथा इस फार्म पर किसी परिवार के पाँच सदस्य काम करते हैं, यह मामला है</p> <p>(1) छुपी हुई बेरोज़गारी का (2) खुली बेरोज़गारी का  (3) पूर्ण बेरोज़गारी का (4) अति रोज़गार का</p>

Question No.	Questions
7.	<p>If rate of growth of country 'A' is 7.4% and for country 'B', it is 7.2%, then it can be concluded that</p> <p>(1) Country 'A' is developing faster  (2) Country 'A' is growing faster  (3) Both of the above  (4) None of the above</p> <p>यदि देश 'A' की वृद्धि की दर 7.4% है तथा देश 'B' के लिए यह 7.2% है तब यह परिणाम निकाला जा सकता है कि</p> <p>(1) देश 'A' अधिक तेज़ी से विकास कर रहा है  (2) देश 'A' अधिक तेज़ी से वृद्धि कर रहा है  (3) उपरोक्त दोनों  (4) उपरोक्त में से कोई नहीं</p>
8.	<p>Coexistence of modern and traditional economic structure is called</p> <p>(1) mixed economy                      (2) growth paradox  (3) economic dualism                    (4) none of these</p> <p>आधुनिक तथा परम्परागत आर्थिक ढाँचे के सह अस्तित्व को कहा जाता है</p> <p>(1) मिश्रित अर्थ व्यवस्था                      (2) वृद्धि विरोधाभास  (3) आर्थिक द्वैतता                              (4) इनमें से कोई नहीं</p>
9.	<p>In Rostow's theory of development, different stages relate to</p> <p>(1) population size  (2) rate of growth of population  (3) composition of national income  (4) all of the above</p> <p>विकास के रोस्टो के सिद्धान्त में, विभिन्न अवस्थाएं संबंधित हैं</p> <p>(1) जनसंख्या के आकार से  (2) जनसंख्या की वृद्धि दर से  (3) राष्ट्रीय आय की संरचना से  (4) उपरोक्त सभी से</p>

Question No.	Questions
10.	<p>Theory of vicious cycle of poverty is</p> <p>(1) primarily an explanation of why countries are poor</p> <p>(2) primarily an explanation of why individuals are poor</p> <p>(3) primarily a strategy of poverty removal</p> <p>(4) none of the above</p> <p>गरीबी के दुश्चक्र का सिद्धान्त है</p> <p>(1) प्राथमिक रूप से यह व्याख्या कि देश क्यों गरीब हैं</p> <p>(2) प्राथमिक रूप से एक व्याख्या कि व्यक्ति क्यों गरीब है</p> <p>(3) प्राथमिक रूप से गरीबी हटाने की एक रणनीति है</p> <p>(4) उपरोक्त में से कोई नहीं</p>
11.	<p>In an under developed country most abundant resource is</p> <p>(1) modern technology                      (2) underutilised capital</p> <p>(3) savings                                      (4) none of these</p> <p>एक अल्प विकसित देश में सबसे बहुल संसाधन है</p> <p>(1) आधुनिक प्रौद्योगिकी                      (2) अल्प उपयोजित पूँजी</p> <p>(3) बचतें    (4) इनमें से कोई नहीं</p>
12.	<p>Per capita income as a measure of development is inadequate because</p> <p>(1) it ignores distributional aspects</p> <p>(2) it ignores sustainability aspects</p> <p>(3) it ignores and focuses on means</p> <p>(4) all of the above</p> <p>विकास के माप के रूप में प्रति व्यक्ति आय अपर्याप्त है क्योंकि</p> <p>(1) यह वितरणीय पहलुओं की उपेक्षा करता है</p> <p>(2) यह पोषणीय पहलुओं की उपेक्षा करता है</p> <p>(3) यह परिणामों की उपेक्षा करता है तथा साधनों पर ध्यान देता है</p> <p>(4) उपरोक्त सभी</p>

Question No.	Questions
13.	<p>In times of inflationary pressure, who will be most adversely affected</p> <p>(1) Businessmen (2) Government (3) Pensioners (4) All will be equally affected</p> <p>स्फीतिकारक दबाव के समय में, सबसे बुरी तरह कौन प्रभावित होगा</p> <p>(1) व्यापारी (2) सरकार (3) पेंशनभोगी (4) सभी समान रूप से प्रभावित होंगे</p>
14.	<p>Fiscal policy deals with</p> <p>(1) Rate of interest charged by banks (2) Income policy of the government (3) Expenditure policy of the government (4) Both income and expenditure policy of the government</p> <p>राजकोषीय नीति व्यवहार करती है</p> <p>(1) बैंकों द्वारा लगाए गए ब्याज की दर के साथ (2) सरकार की आय नीति के साथ (3) सरकार की व्यय नीति के साथ (4) सरकार की आय तथा व्यय दोनों नीतियों के साथ</p>
15.	<p>Decrease in autonomous consumption will shift IS curve</p> <p>(1) up (2) will have no effect (3) can not say (4) down</p> <p>स्वायत्त उपयोग में कमी IS वक्र को हटाएगा</p> <p>(1) ऊपर (2) कोई प्रभाव नहीं होगा (3) कह नहीं सकते (4) नीचे</p>
16.	<p>Periods of increasing prices will lead to</p> <p>(1) increase in employment (2) decrease in employment (3) decrease in exports (4) all of the above are possible</p> <p>बढ़ते हुए मूल्यों की अवधियाँ ले जाएंगी</p> <p>(1) रोज़गार में वृद्धि की ओर (2) रोज़गार में कमी की ओर (3) निर्यात में कमी की ओर (4) उपरोक्त सभी संभव है</p>

Question No.	Questions
17.	<p>Unit of measurement of MPC is</p> <p>(1) Utils (2) Rupees (3) A pure number without any unit (4) None of the above</p> <p>MPC के माप की इकाई है</p> <p>(1) Utils (2) रुपया (3) बिना किसी इकाई के एक शुद्ध संख्या (4) उपरोक्त में से कोई नहीं</p>
18.	<p>Higher levels of income tax for the rich will most likely lead to</p> <p>(1) decrease in consumption of food (2) lower enrolment in schools (3) decrease in demand for five star hotels (4) lower expenditure on health</p> <p>अमीरों के लिए आयकर के उच्चतर स्तर संभवतः ले जाएंगे</p> <p>(1) खाद्य के उपभोग में कमी की ओर (2) विद्यालयों में न्यूनतर भर्ती की ओर (3) पाँच सितारा होटलों के लिए मांग में कमी की ओर (4) स्वास्थ्य पर न्यूनतर व्यय की ओर</p>
19.	<p>Change in aggregate consumption per unit of change in disposable income is called</p> <p>(1) increase in demand (2) decrease in demand (3) income shift (4) marginal propensity to consume</p> <p>व्यय योग्य आय में परिवर्तन के प्रति इकाई समुच्चित उपभोग में परिवर्तन को कहते हैं</p> <p>(1) मांग में वृद्धि (2) मांग में कमी (3) आय बदलाव (4) उपभोग की सीमांत प्रवृत्ति</p>

Question No.	Questions
20.	<p>Assuming that overtime prices have been falling arrange following in descending order of magnitude : Gross domestic product (GDP), Net domestic product (NDP), disposable income (DI) at current prices, disposable income (DI) at constant prices</p> <p>(1) GDP, NDP, DI at constant prices, DI at current prices  (2) GDP, NDP, DI at current prices, DI at constant prices  (3) NDP, GDP, DI at current prices, DI at constant prices  (4) None of the above</p> <p>यह मानते हुए कि एक समय के दौरान मूल्य घट रहे हैं, निम्नलिखित को परिमाण के घटते हुए क्रम में व्यवस्थित कीजिए : सकल घरेलू उत्पाद (GDP), शुद्ध घरेलू उत्पाद (NDP), वर्तमान मूल्यों पर व्यय योग्य आय (DI), स्थिर मूल्यों पर व्यय योग्य आय (DI)</p> <p>(1) GDP, NDP, स्थिर मूल्यों पर DI, वर्तमान मूल्यों पर DI  (2) GDP, NDP, वर्तमान मूल्यों पर DI, स्थिर मूल्यों पर DI  (3) NDP, GDP, वर्तमान मूल्यों पर DI, स्थिर मूल्यों पर DI  (4) उपरोक्त में से कोई नहीं</p>
21.	<p>With increasing awareness of harmful consequences of environmental pollution, ceteris paribus, share prices of luxury cars will</p> <p>(1) decrease (2) increase  (3) can go in either direction (4) none of these</p> <p>पर्यावरण प्रदूषण के हानिकारक परिणामों की बढ़ती हुई जानकारी के साथ, यदि अन्य बातें पूर्ववत् रहें, विलासोपकरण कारों के अंश मूल्य</p> <p>(1) घटेंगे (2) बढ़ेंगे  (3) किसी भी दिशा में जा सकते हैं (4) इनमें से कोई नहीं</p>



Question No.	Questions
22.	<p>Major contribution of Keynes that distinguishes him from his pre-decessors is his theory of</p> <p>(1) interest rate distribution  (2) taxation  (3) price  (4) equilibrium at less than full employment levels</p> <p>केन्ज़ का प्रमुख योगदान जो कि उन्हें उनके पूर्ववृत्तियों से अलग करता है, उनका _____ का सिद्धान्त है</p> <p>(1) ब्याज़ दर वितरण  (2) कराधान  (3) मूल्य  (4) पूर्ण रोज़गार स्तर से कम पर सम्यावस्था</p>
23.	<p>In IS-LM framework diagram shows equilibrium levels of</p> <p>(1) Income and employment  (2) Employment and rate of interest  (3) Inflation and rate of interest  (4) rate of interest and income</p> <p>IS-LM ढाँचे में चित्र निम्न की साम्यावस्था स्तरों को दिखाता है</p> <p>(1) आय तथा रोज़गार                      (2) रोज़गार तथा ब्याज़ की दर  (3) मुद्रास्फीति तथा ब्याज़ की दर      (4) ब्याज़ की दर तथा आय</p>
24.	<p>Normal or usual aggregate consumption curve will cut 'Y' axis at</p> <p>(1) origin                                      (2) at positive value  (3) at negative value                      (4) any of the above</p> <p>प्रसामान्य अथवा साधारण समुच्चित उपभोग वक्र Y अक्ष को _____ पर काटेगा</p> <p>(1) मूल    (2) धनात्मक मान पर  (3) ऋणात्मक मान पर                      (4) उपरोक्त में से कोई भी</p>

Question No.	Questions
25.	<p>Which of the following is a transfer payment</p> <p>(1) Wages of workers  (2) Interest on bank deposits  (3) Rent of a building  (4) None of the above</p> <p>निम्नलिखित में से कौन-सा अंतरण भुगतान है ?</p> <p>(1) श्रमिकों की मजदूरी  (2) बैंक जमा पर ब्याज  (3) किसी भवन का किराया  (4) उपरोक्त में से कोई नहीं</p>
26.	<p>Disguised unemployment is more likely to occur in</p> <p>(1) market economy (2) developed countries  (3) under developed economy (4) none of the above</p> <p>छुपी हुई बेरोजगारी के अधिक होने की संभावना है</p> <p>(1) बाज़ार अर्थव्यवस्था में (2) विकसित देशों में  (3) अल्प विकसित अर्थ-व्यवस्थाओं में (4) उपरोक्त में से कोई नहीं</p>
27.	<p>Capital formation is a process of</p> <p>(1) generation of saving  (2) construction of buildings  (3) deposit of savings in banks  (4) creation of additional production capacity</p> <p>पूँजी निर्माण एक प्रक्रिया है</p> <p>(1) बचत का निर्माण  (2) भवनों का निर्माण  (3) बैंकों में बचतों का जमा होना  (4) अतिरिक्त उत्पादन क्षमता का निर्माण</p>

Question No.	Questions
28.	<p>'Development is the best contraceptive' implies</p> <p>(1) With development more effective contraceptives become available</p> <p>(2) To control population growth, contraceptives are not needed</p> <p>(3) With economic development, rate of growth of population will come down in due course</p> <p>(4) None of the above</p> <p>“विकास सर्वोत्तम उपाय है” इंगित करता है</p> <p>(1) विकास के साथ अधिक प्रभावशाली उपाय उपलब्ध होते हैं</p> <p>(2) जनसंख्या वृद्धि नियंत्रण के लिए उपायों की आवश्यकता नहीं है</p> <p>(3) आर्थिक विकास के साथ, समय के साथ जनसंख्या की वृद्धि की दर नीचे आएगी</p> <p>(4) उपरोक्त में से कोई नहीं</p>
29.	<p>Lewis model of development was based on</p> <p>(1) surplus labour in traditional sector</p> <p>(2) urban unemployment</p> <p>(3) both of the above</p> <p>(4) none of the above</p> <p>विकास का लुइस मॉडल आधारित था</p> <p>(1) परम्परागत क्षेत्र में अतिरिक्त श्रम पर</p> <p>(2) शहरी बेरोज़गारी पर</p> <p>(3) उपरोक्त दोनों</p> <p>(4) उपरोक्त में से कोई नहीं</p>
30.	<p>In South-East Asia, highest ranking in terms of human development index is generally achieved by</p> <p>(1) India</p> <p>(2) Sri Lanka</p> <p>(3) China</p> <p>(4) None of these</p> <p>दक्षिण-पूर्व एशिया में मानव विकास सूचकांक के पदों में उच्चतम श्रेणी को प्राप्त किया है</p> <p>(1) भारत ने</p> <p>(2) श्री लंका ने</p> <p>(3) चीन ने</p> <p>(4) इनमें से कोई नहीं</p>

Question No.	Questions
31.	<p>Human Development Index takes into account</p> <p>(1) gender inequality (2) regional inequality (3) generational inequality (4) none of the above</p> <p>मानव विकास सूचकांक गणना करता है</p> <p>(1) लिंग असमानता का (2) क्षेत्रीय असमानता का (3) पीढ़ीगत असमानता का (4) उपरोक्त में से कोई नहीं</p>
32.	<p>Which of the following is <i>not</i> an argument in support of balanced growth theory</p> <p>(1) to make full use of economies of scale and specialisation. (2) different sectors of the economy are interlinked (3) to avoid inter-sectoral bottlenecks (4) none of the above</p> <p>निम्नलिखित में से कौन-सा संतुलित वृद्धि सिद्धान्त के समर्थन में एक तर्क नहीं है</p> <p>(1) पैमाने की बचतों तथा विशिष्टीकरण का पूर्ण उपयोग करना (2) अर्थ-व्यवस्था के अलग-अलग क्षेत्रक आपस में जुड़े हैं (3) अंतर-क्षेत्रकीय बाधाओं से बचाव (4) उपरोक्त में से कोई नहीं</p>
33.	<p>According to Lewis, supply of labour at existing wage rate to industrial sector is</p> <p>(1) completely inelastic (2) positive (3) negative (4) completely elastic</p> <p>लुइस के अनुसार, औद्योगिक क्षेत्रक को वर्तमान मजदूरी दर पर श्रम की आपूर्ति है</p> <p>(1) पूर्णतः अलोचशील (2) धनात्मक (3) ऋणात्मक (4) पूर्णतः लोचशील</p>

Question No.	Questions
34.	<p>Agriculture is the dominant sector of Indian economy because it has highest share in</p> <p>(1) National income                      (2) Employment</p> <p>(3) Both of the above                      (4) None of the above</p> <p>भारतीय अर्थ व्यवस्था का कृषि एक प्रमुख क्षेत्रक है क्योंकि इसका उच्चतम अंश है</p> <p>(1) राष्ट्रीय आय में                      (2) रोज़गार में</p> <p>(3) उपरोक्त दोनों में                      (4) इनमें से कोई नहीं</p>
35.	<p>After independence, per capita availability of pulses in India has</p> <p>(1) increased                                      (2) decreased</p> <p>(3) remained stationary                      (4) none of these</p> <p>स्वतंत्रता के पश्चात, भारत में दालों की प्रति व्यक्ति उपलब्धता</p> <p>(1) बढ़ी है                                      (2) घटी है</p> <p>(3) स्थिर रही है                                      (4) इनमें से कोई नहीं</p>
36.	<p>Decline in rate of inflation means</p> <p>(1) Prices are declining</p> <p>(2) Prices are increasing at slower rate</p> <p>(3) Both of the above</p> <p>(4) None of the above</p> <p>मुद्रास्फीति की दर में गिरावट का अर्थ है</p> <p>(1) कीमतें गिर रही हैं</p> <p>(2) मूल्य धीमी दर पर बढ़ रहे हैं</p> <p>(3) उपरोक्त दोनों</p> <p>(4) उपरोक्त में से कोई नहीं</p>

Question No.	Questions
37.	<p>Which of the following is not true of Indian agriculture development</p> <p>(1) it is concentrated on few crops  (2) it is focussed on few regions  (3) it is not export oriented  (4) it has seen balanced growth</p> <p>भारतीय कृषि विकास के लिए निम्न में से कौन-सा सही नहीं है</p> <p>(1) यह कुछ फसलों पर केन्द्रित है      (2) यह कुछ क्षेत्रों पर केन्द्रित है  (3) यह निर्यात अभिमुख नहीं है      (4) इसने संतुलित वृद्धि देखी है</p>
38.	<p>As compared to developed countries, generally India has</p> <p>(1) lower levels of open unemployment  (2) higher level of disguised unemployment  (3) both of the above  (4) none of the above</p> <p>विकसित देशों की तुलना में, भारत के पास है</p> <p>(1) खुली बेरोज़गारी का न्यूनतर स्तर  (2) छुपी बेरोज़गारी का उच्चतर स्तर  (3) उपरोक्त दोनों  (4) उपरोक्त में से कोई नहीं</p>
39.	<p>India has been cited as mixed economy because it has</p> <p>(1) mix of agriculture and industrial sectors  (2) produces for exports as well as domestic market  (3) flourishing public sector as well as private sector  (4) none of the above</p> <p>भारत को मिश्रित अर्थ व्यवस्था के रूप में संदर्भित किया जाता है क्योंकि इसके पास है</p> <p>(1) कृषि तथा औद्योगिक क्षेत्रों का मिश्रण  (2) निर्यात के साथ-साथ घरेलू बाज़ार के लिए उत्पाद  (3) फलते-फूलते सार्वजनिक क्षेत्र के साथ-साथ निजी क्षेत्र  (4) उपरोक्त में से कोई नहीं</p>

Question No.	Questions
40.	<p>Since 1990's economic policy in India has been characterised by</p> <p>(1) reduced role of public sector  (2) increased role of multinational corporations  (3) both of the above  (4) only (2) above</p> <p>1990's से भारत में आर्थिक नीति विशिष्टिकृत है</p> <p>(1) सार्वजनिक क्षेत्रक की घटी हुई भूमिका द्वारा  (2) बहु राष्ट्रीय निगमों की बढी हुई भूमिका द्वारा  (3) उपरोक्त दोनों द्वारा  (4) केवल उपरोक्त (2) द्वारा</p>
41.	<p>If two trains start moving in perpendicular directions at speed of 50 and 60 kilometers per hour respectively. After one hour trains will be at a linear distance of</p> <p>(1) 110 km (2) more than 80 km  (3) less than 80 km (4) none of these</p> <p>यदि दो ट्रेने लम्बवत दिशाओं में क्रमशः 50 तथा 60 किमी. प्रतिघंटा की गति के साथ चलना शुरु करती हैं। एक घंटे पश्चात ट्रेनें कम से कम _____ रेखिक दूरी पर होंगी।</p> <p>(1) 110 किमी (2) 80 किमी से अधिक  (3) 80 किमी से कम (4) इनमें से कोई नहीं</p>
42.	<p>If in a game of 3 blue balls, 5 red balls and 2 white balls, probability of winning is <math>\frac{3}{7}</math>, what is the probability of loosing</p> <p>(1) <math>\frac{3}{10}</math> (2) <math>\frac{7}{10}</math> (3) <math>\frac{1}{2}</math> (4) None of these</p> <p>यदि 3 नीली गेंदों, 5 लाल गेंदों तथा 2 सफेद गेंदों के किसी खेल में जीतने की प्रायिकता <math>\frac{3}{7}</math> है, हारने की प्रायिकता क्या है</p> <p>(1) <math>\frac{3}{10}</math> (2) <math>\frac{7}{10}</math> (3) <math>\frac{1}{2}</math> (4) इनमें से कोई नहीं</p>

Question No.	Questions
43.	<p>If width is doubled and length is reduced by <math>\frac{1}{3}</math>rd, then the area of rectanged will</p> <p>(1) increase by <math>\frac{1}{3}</math>rd                      (2) decrease by <math>\frac{1}{3}</math>rd</p> <p>(3) doubled                                      (4) none of these</p> <p>यदि चौड़ाई को दोगुना किया जाता है तथा लम्बाई को <math>\frac{1}{3}</math>rd से कम किया जाता है, तब आयत का क्षेत्रफल</p> <p>(1) <math>\frac{1}{3}</math>rd से बढ़ेगा                      (2) <math>\frac{1}{3}</math>rd से घटेगा</p> <p>(3) दो गुना होगा                      (4) इनमें से कोई नहीं</p>
44.	<p>If government spends more than its current revenue income, it will lead to</p> <p>(1) increase in employment      (2) inflation</p> <p>(3) both of these                      (4) none of these</p> <p>यदि सरकार इसकी वर्तमान आयगत आय से अधिक व्यय करती है, यह ले जाएगा</p> <p>(1) रोज़गार में वृद्धि की ओर      (2) मुद्रास्फीति की ओर</p> <p>(3) इनमें से दोनों                      (4) इनमें से कोई नहीं</p>
45.	<p>Increase in marginal propensity to import will</p> <p>(1) increase the value of multiplier</p> <p>(2) have no effect on multiplier</p> <p>(3) same effect as that of increase in MPC</p> <p>(4) none of the above</p> <p>आयात के लिए सीमांत प्रवृत्ति में वृद्धि करेगी</p> <p>(1) गुणक के मान में वृद्धि</p> <p>(2) गुणक पर कोई प्रभाव नहीं होगा</p> <p>(3) MPC में वृद्धि की तरह समान प्रभाव</p> <p>(4) उपरोक्त में से कोई नहीं</p>

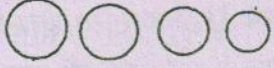
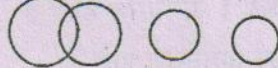
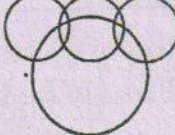


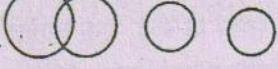
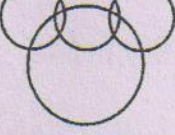



Question No.	Questions
46.	<p>Critical minimum effort thesis and big push theory of development are</p> <p>(1) similar to each other      (2) contradict each other  (3) unrelated      (4) none of these</p> <p>क्रांतिक न्यूनतम प्रभाव थीसिस तथा विकास का बड़ा धक्का सिद्धान्त है</p> <p>(1) एक दूसरे के समान      (2) एक दूसरे के विरोधी  (3) असंबंधित      (4) इनमें से कोई नहीं</p>
47.	<p>For modernisation of economy, agriculture is a source of</p> <p>(1) investible surplus      (2) labour  (3) both of these      (4) none of these</p> <p>अर्थ व्यवस्था के आधुनिकीकरण के लिए, कृषि एक स्रोत है</p> <p>(1) निवेश योग्य आधिक्य      (2) श्रम  (3) इनमें से दोनों      (4) इनमें से कोई नहीं</p>
48.	<p>Development trajectory of an economy is a function of</p> <p>(1) rate of capital formation      (2) choice of technique  (3) both of the above      (4) none of the above</p> <p>एक अर्थ व्यवस्था का विकास प्रक्षेप-पथ एक कार्य है</p> <p>(1) पूँजी निर्माण की दर का      (2) तकनीक के चयन का  (3) उपरोक्त दोनों का      (4) उपरोक्त में से कोई नहीं</p>
49.	<p>Which of the following economists is not known for his/her contribution to development economics</p> <p>(1) Amartya Sen      (2) Nurkse  (3) Marshal      (4) Todaro</p> <p>निम्न में से कौन-सा अर्थशास्त्री उसके/उसकी विकास अर्थशास्त्र को देन के लिए नहीं जाना जाता है</p> <p>(1) आमर्त्य सेन      (2) नर्कसे  (3) मार्शल      (4) टोडारो</p>

Question No.	Questions
50.	<p>If three countries grow at equal rate, then after 10 years</p> <p>(1) these will be equally developed  (2) need not be equally developed  (3) will be equally developed only if these countries were at the same level of development  (4) none of the above</p> <p>यदि तीन देश समान दर पर वृद्धि करते हैं, तो 10 वर्ष पश्चात</p> <p>(1) यह समान रूप से विकसित होंगे  (2) समान रूप से विकसित होने की आवश्यकता नहीं  (3) समान रूप से विकसित होंगे। केवल यदि यह देश विकास के समान स्तर पर हों  (4) उपरोक्त में से कोई नहीं</p>
51.	<p>In mid-sixties, for some years India observed plan holiday. It was because of</p> <p>(1) drought (2) floods  (3) political instability (4) none of the above</p> <p>साठ दशक के मध्य में, कुछ वर्षों के लिए भारत ने योजना अवकाश मनाया। यह निम्न के लिए हुआ</p> <p>(1) सूखा (2) बाढ़  (3) राजनैतिक अस्थिरता (4) उपरोक्त में से कोई नहीं</p>
52.	<p>Estimates of poverty in India are derived on the basis of</p> <p>(1) Economic Census  (2) Population Census  (3) Door to Door survey by the State Government  (4) Sample survey by Central Government</p> <p>भारत में निर्धनता के आकलनों को निम्न के आधार पर व्युत्पन्न किया जाता है</p> <p>(1) आर्थिक जनगणना  (2) जनसंख्या जनगणना  (3) राज्य सरकार द्वारा घर-घर सर्वेक्षण  (4) केन्द्रीय सरकार द्वारा नमूना सर्वेक्षण</p>

Question No.	Questions
53.	<p>Arrange following in increasing order : 0.1, 0.02, 0.009, 0.0095</p> <p>(1) 0.009, 0.0095, 0.02, 0.1      (2) 0.0095, 0.009, 0.02, 0.1</p> <p>(3) 0.1, 0.02, 0.009, 0.0095      (4) none of the above</p> <p>निम्नलिखित को बढ़ते हुए क्रम में व्यवस्थित कीजिए : 0.1, 0.02, 0.009, 0.0095</p> <p>(1) 0.009, 0.0095, 0.02, 0.1      (2) 0.0095, 0.009, 0.02, 0.1</p> <p>(3) 0.1, 0.02, 0.009, 0.0095      (4) उपरोक्त में से कोई नहीं</p>
54.	<p><math>(1 - 0.1)(1 + 0.1) = ?</math></p> <p>(1) 2.02      (2) <math>1 - 0.1 + 0.1 - (0.1 \times 1)</math></p> <p>(3) 0.99      (4) none of these</p> <p><math>(1 - 0.1)(1 + 0.1) = ?</math></p> <p>(1) 2.02      (2) <math>1 - 0.1 + 0.1 - (0.1 \times 1)</math></p> <p>(3) 0.99      (4) इनमें से कोई नहीं</p>
55.	<p><math>(1.999 + 0.001)^3 = ?</math></p> <p>(1) <math>1.999^3 + 0.001^3 + 3(1.999)^2(0.001) + 3(1.999)(0.001)^2</math></p> <p>(2) <math>\frac{2^5}{2^2} + 17 - 9</math></p> <p>(4) All of the above</p> <p><math>(1.999 + 0.001)^3 = ?</math></p> <p>(1) <math>1.999^3 + 0.001^3 + 3(1.999)^2(0.001) + 3(1.999)(0.001)^2</math></p> <p>(2) <math>\frac{2^5}{2^2} + 17 - 9</math></p> <p>(4) उपरोक्त सभी</p>

Question No.	Questions
56.	<p>Maximum data dispersion is given by</p> <p>(1) Variance (2) Standard deviation (3) Range (4) None of these</p> <p>अधिकतम प्रदत्त प्रकीर्णन को दिया जाता है</p> <p>(1) विचरण द्वारा (2) प्रमाप विचलन द्वारा (3) परास द्वारा (4) इनमें से कोई नहीं</p>
57.	<p>Statement : Some rats are birds. All the birds like mangoes</p> <p>Conclusion I : All birds are rats</p> <p>Conclusion II : Some rats like mangoes</p> <p>From the given statement</p> <p>(1) Only conclusion I follows (2) Only conclusion II follows (3) Both conclusions follows (4) Neither conclusion follows</p> <p>कथन: कुछ चूहे पक्षी हैं। सभी पक्षियों को आम पसंद है।</p> <p>निष्कर्ष I : सभी पक्षी चूहे हैं</p> <p>निष्कर्ष II : कुछ चूहे आम पसंद करते हैं।</p> <p>दिए गए कथन से</p> <p>(1) केवल निष्कर्ष I अनुसरित होता है (2) केवल निष्कर्ष II : अनुसरित होता है (3) दोनों निष्कर्ष अनुसरित होते हैं (4) कोई भी निष्कर्ष अनुसरित नहीं होता</p>
58.	<p>In the evening, after office hours a person walks towards sun, then turns to his left, then to his right and then right again. Finally he turns left and directly faces his house. His house faces</p> <p>(1) North (2) South (3) East (4) West</p> <p>शाम को, कार्यालय समय के बाद, एक व्यक्ति सूर्य की तरफ चलता है, उसके बाद अपने बाएं मुड़ता है, उसके बाद दाएं मुड़ता है, और फिर दाएं मुड़ता है। अंत में बाएं मुड़ता है और अपने घर के सामने पहुँच जाता है। उसका घर है</p> <p>(1) उत्तर की ओर (2) दक्षिण की ओर (3) पूर्व की ओर (4) पश्चिम की ओर</p>

Question No.	Questions
59.	<p>Statement : All women are married. Some women are doctors</p> <p>Conclusion I : Some married women are not doctors</p> <p>Conclusion II : All women doctors are not married</p> <p>From the given statement</p> <p>(1) Both conclusions follow (2) Only conclusion I follows</p> <p>(3) Only conclusion II follows (4) Neither conclusion follows</p> <p>कथन : सभी महिलाएं विवाहित हैं। कुछ महिलाएं चिकित्सक हैं।</p> <p>निष्कर्ष I : कुछ विवाहित महिलाएं चिकित्सक नहीं हैं।</p> <p>निष्कर्ष II : सभी महिला चिकित्सक विवाहित नहीं हैं।</p> <p>दिए गए कथन से</p> <p>(1) दोनों निष्कर्ष अनुसरित होते हैं (2) केवल निष्कर्ष I अनुसरित होता है</p> <p>(3) केवल निष्कर्ष II अनुसरित होता है (4) कोई भी निष्कर्ष अनुसरित नहीं होता</p>
60.	<p>Relationship between mango, fruits, rice and curd is best represented by</p> <p>(1)  (2) </p> <p>(3)  (4) </p> <p>आम, फलों, चावल तथा दही के बीच संबंध सबसे अच्छी तरह निरूपित होता है</p> <p>(1)  (2) </p> <p>(3)  (4) </p>

Question No.	Questions
61.	<p>With all the money in her pocket, a woman can buy either 40 apples or 30 oranges. If she decides to buy 14 apples as well as save 15% of total money, how many oranges can she buy</p> <p>(1) 14 (2) 15 (3) 16 (4) none of these</p> <p>अपनी जेब में कुल पैसे से, एक महिला या तो 40 सेब अथवा 30 संतरे खरीद सकती है। यदि वह 14 सेब खरीदने के साथ ही साथ कुल पैसे का 15% बचाने का निर्णय लेती है, तो उसे कितने संतरे खरीदने चाहिए</p> <p>(1) 14 (2) 15 (3) 16 (4) इनमें से कोई नहीं</p>
62.	<p>Generally which Indian state is ranked highest in terms of human development index</p> <p>(1) Haryana (2) Gujarat (3) Maharashtra (4) Kerala</p> <p>साधारणतः किस भारतीय राज्य को मानव विकास सूचकांक के पदों में उच्चतम श्रेणी पर माना जाता है</p> <p>(1) हरियाणा (2) गुजरात (3) महाराष्ट्र (4) केरल</p>
63.	<p>Proportion of GDP spent on education in India is</p> <p>(1) 6% (2) less than 1% (3) more than 6% (4) none of these</p> <p>भारत में शिक्षा पर खर्च किया गया GDP का अनुपात है</p> <p>(1) 6% (2) 1% से कम (3) 6% से अधिक (4) इनमें से कोई नहीं</p>
64.	<p>For a decade after mid ninteets, employment in organised sector in India</p> <p>(1) increased rapidly (2) remained stable (3) declined through out (4) declined and recovered</p> <p>नब्बे के दशक के मध्य के लिए, भारत में संगठित क्षेत्र में रोजगार</p> <p>(1) तेजी से बढ़ा (2) स्थिर रहा (3) लगातार घटता रहा (4) घटा और सुधरा</p>

Question No.	Questions
65.	<p>In recent past, centrel budget has been characterised by</p> <p>(1) high borrowings (2) surplus</p> <p>(3) deficit (4) both (1) and (3)</p> <p>हाल ही में, केन्द्रीय बजट निम्न द्वारा लक्षणीकृत होता है</p> <p>(1) उच्च ऋण (2) अधिक्य</p> <p>(3) घाटा (4) (1) तथा (3) दोनों</p>
66.	<p>If arithmetic mean of a,b,c and d is e and sum of first two terms is f, then the fourth term is equal to</p> <p>(1) e-f (2) (4e-f)/2</p> <p>(3) it is not possible to find it (4) none of these</p> <p>यदि a,b,c तथा d का गणितीय माध्य e है तथा प्रथम दो पदों का योगफल f है, तब चौथा पद बराबर है</p> <p>(1) e-f (2) (4e-f)/2</p> <p>(3) इसे ज्ञात करना संभव नहीं है (4) इनमें से कोई नहीं</p>
67.	<p><math>2.3 + 7.7 ((3 + (7 \times 3)) \div 4) = ?</math></p> <p>(1) 16</p> <p>(2) it is not possible to find it</p> <p>(3) 48.5</p> <p>(4) none of these</p> <p><math>2.3 + 7.7 ((3 + (7 \times 3)) \div 4) = ?</math></p> <p>(1) 16</p> <p>(2) इसे ज्ञात करना संभव नहीं है</p> <p>(3) 48.5</p> <p>(4) इनमें से कोई नहीं</p>

Question No.	Questions
68.	<p>Standard deviation of age distribution of boys in a class is 1.75 and that of girls is 2.0. It means</p> <ol style="list-style-type: none"> <li>(1) Girls have higher average</li> <li>(2) Girls have more varied age</li> <li>(3) Average age of girls is 0.25 more than that of boys</li> <li>(4) None of the above</li> </ol> <p>किसी कक्षा में लड़कों की आयु वितरण का प्रमाण विचलन 1.75 है तथा लड़कियों का 2.0 है। इसका मतलब है</p> <ol style="list-style-type: none"> <li>(1) लड़कियों का औसत अधिक है</li> <li>(2) लड़कियों की आयु में ज्यादा भिन्नता है</li> <li>(3) लड़कियों की औसत आयु लड़कों की अपेक्षा 0.25 अधिक है</li> <li>(4) उपरोक्त में से कोई नहीं</li> </ol>
69.	<p>If price of a commodity increases by 20%, then by what proportion should a consumer reduce her consumption of this commodity to keep her expenditure on this commodity constant</p> <ol style="list-style-type: none"> <li>(1) 20%</li> <li>(2) about 17%</li> <li>(3) not possible to find out with the given information</li> <li>(4) none of these</li> </ol> <p>यदि एक वस्तु का मूल्य 20% बढ़ जाता है, तो एक उपभोक्ता को इस वस्तु पर अपने खर्चे स्थिर रखने के लिए अपने उपभोग को कितना कम करना चाहिए</p> <ol style="list-style-type: none"> <li>(1) 20%</li> <li>(2) लगभग 17%</li> <li>(3) दी गई सूचना से ज्ञात करना संभव नहीं</li> <li>(4) इसमें से कोई नहीं</li> </ol>



Question No.	Questions
70.	<p>If a box has coins of Rs. 1, 2 and 5 only, and total number of coins is 100. Moreover, there are at least two coins of each denomination in the box. Therefore.</p> <p>(1) Maximum amount of money in box can be Rs. 486</p> <p>(2) Minimum amount of money in box can not be less than Rs. 110</p> <p>(3) Both of the above</p> <p>(4) None of the above</p> <p>यदि एक बक्से में केवल 1, 2 तथा 5 रु. के सिक्के हैं तथा कुल सिक्कों की संख्या 100 है। इसके अलावा प्रत्येक मूल्य के कम से कम 2 सिक्के हैं। यानी कि</p> <p>(1) बक्से में धन की अधिकतम राशि 486 रु.</p> <p>(2) बक्से में धन की न्यूनतम राशि 110 रु. से कम नहीं हो सकती है</p> <p>(3) उपरोक्त दोनों</p> <p>(4) उपरोक्त में से कोई नहीं</p>
71.	<p>Arrange wheat, cereals and food in such an order that the absolute value of their price elasticity of demand decreases</p> <p>(1) wheat, cereals, food</p> <p>(2) food, cereals, wheat</p> <p>(3) cereals wheat, food</p> <p>(4) cereals, food, wheat</p> <p>गेहूँ, अनाज तथा खाने को ऐसे क्रम में व्यवस्थित कीजिए कि उनकी मांग की मूल्य लोच का परम मान घट जाए</p> <p>(1) गेहूँ, अनाज, खाना</p> <p>(2) खाना, अनाज, गेहूँ</p> <p>(3) अनाज, गेहूँ, खाना</p> <p>(4) अनाज, खाना, गेहूँ</p>

Question No.	Questions
72.	<p>If marginal utility of x was increasing through out rather than diminishing as is usually assumed, then consumer will consume</p> <p>(1) only y (2) both x and y but more of x  (3) cannot say (4) only x if she consumes x at all</p> <p>यदि x की सीमांत उपयोगिता घटने के जैसा कि सामान्यतः सोचा जाता है के बजाय लगातार बढ़ रही है, तब उपभोक्ता उपभोग करेगा</p> <p>(1) केवल y (2) x तथा y दोनों परन्तु अधिक x  (3) कह नहीं सकते (4) केवल x यदि वह x का उपयोग करती है</p>
73.	<p>Which of the following does not represent demand curve of a normal good.</p> <p>(1) <math>P_x = 30 - D_x</math> (2) <math>D_x = 87 - 0.5P_x</math>  (3) <math>P_x = \frac{86.5}{D_x}</math> (4) None of the above</p> <p>निम्नलिखित में से कौन सा एक सामान्य वस्तु के मांग वक्र का प्रतिनिधित्व नहीं करता</p> <p>(1) <math>P_x = 30 - D_x</math> (2) <math>D_x = 87 - 0.5P_x</math>  (3) <math>P_x = \frac{86.5}{D_x}</math> (4) उपरोक्त में से कोई नहीं</p>
74.	<p>Under economic resource 'labour' which one of the following is not included</p> <p>(1) Banker  (2) Machine operator  (3) Manual worker  (4) None of the above</p> <p>आर्थिक संसाधन 'श्रम' के अधीन निम्नलिखित में से कौन सा सम्मिलित नहीं है</p> <p>(1) बैंकर (2) मशीन प्रचालक  (3) मैनुअल श्रमिक (4) उपरोक्त में से कोई नहीं</p>

Question No.	Questions
75.	<p>Which one of the following is not a 'firm'</p> <p>(1) Bank (2) Cobbler shop (3) Car manufacturer (4) None of the above</p> <p>निम्नलिखित में से कौन सा एक फर्म नहीं है :</p> <p>(1) बैंक (2) मोची की दुकान (3) कार निर्माता (4) उपरोक्त में से कोई नहीं</p>
76.	<p>If income of a consumer increases, then for a normal good</p> <p>(1) quantity demanded will increase (2) demand will increase (3) both of the above (4) none of the above</p> <p>यदि एक उपभोक्ता की आय बढ़ती है, सामान्य वस्तु के लिए</p> <p>(1) मांगी गई मात्रा बढ़ेगी (2) मांग बढ़ेगी (3) उपरोक्त दोनों (4) उपरोक्त में से कोई नहीं</p>
77.	<p>Which of the following is a cardinal measure ?</p> <p>(1) Length of a field in meters (2) Ranks in class test (3) Roll numbers of students (4) none of the above</p> <p>निम्नलिखित में से कौन-सा प्रमुख माप है ?</p> <p>(1) मैदान की लम्बाई मीटर में (2) कक्षा परीक्षा में श्रेणियां (3) विद्यार्थियों के अनुक्रमांक (4) उपरोक्त में से कोई नहीं</p>

Question No.	Questions
78.	<p>If price of one commodity increases by 10% and that of another decreases by 10%. Prices of other commodities remain constant and money income also remains constant, then real income will</p> <p>(1) remain constant                      (2) increase (3) decrease                                (4) all of the above are possible</p> <p>यदि एक वस्तु का मूल्य 10% बढ़ता है तथा दूसरे का 10% घटता है। दूसरी वस्तुओं का मूल्य तथा मुद्रा आय स्थिर रहती है, तब वास्तविक आय</p> <p>(1) स्थिर रहेगी                              (2) बढ़ेगी (3) घटेगी                                        (4) उपरोक्त सभी संभव है</p>
79.	<p>Division of State's resources between state and Panchayati Raj institutions is usually decided by</p> <p>(1) Planning Commission              (2) Finance Commission (3) Central government                (4) State government</p> <p>राज्य के संसाधनों का राज्य तथा पंचायती राज संस्थाओं के बीच बंटवारा सामान्यतः निर्णीत होता है</p> <p>(1) योजना आयोग द्वारा              (2) वित्त आयोग द्वारा (3) केन्द्रीय सरकार द्वारा              (4) राज्य सरकार द्वारा</p>
80.	<p>Largest share of national income in India comes from</p> <p>(1) Primary sector                        (2) Secondary sector (3) Tertiary sector                        (4) Export sector</p> <p>भारत में राष्ट्रीय आय का वृहदतम हिस्सा आता है</p> <p>(1) प्राथमिक क्षेत्रक से                      (2) द्वितीयक क्षेत्रक से (3) तृतीयक क्षेत्रक से                      (4) निर्यात क्षेत्रक से</p>

Question No.	Questions
81.	<p>Share of labour employed in organised sector in India is about ..... of total labour employed.</p> <p>(1) 80% (2) 50%</p> <p>(3) 25% (4) 10%</p> <p>भारत में संगठित क्षेत्र में नियोजित श्रम का अंश कुल नियोजित श्रम का लगभग ..... है।</p> <p>(1) 80% (2) 50%</p> <p>(3) 25% (4) 10%</p>
82.	<p>India follows</p> <p>(1) Fixed exchange rate (2) Complete convertibility</p> <p>(3) Partial convertibility (4) None of these</p> <p>भारत अनुसरण करता है</p> <p>(1) स्थिर विनिमय दर का (2) पूर्ण परिवर्तनीयता का</p> <p>(3) आंशिक परिवर्तनशीलता का (4) इनमें से कोई नहीं</p>
83.	<p>Objective of creation of special economic zones was to</p> <p>(1) give boost to exports</p> <p>(2) give boost to imports</p> <p>(3) to increase employment</p> <p>(4) to increase net foreign exchange earnings</p> <p>विशेष आर्थिक क्षेत्रों के निर्माण का उद्देश्य था</p> <p>(1) निर्यात को बढ़ावा देना</p> <p>(2) आयात को बढ़ावा देना</p> <p>(3) रोजगार बढ़ाना</p> <p>(4) शुद्ध विदेशी विनिमय आय को बढ़ाने के लिए</p>

Question No.	Questions
84.	<p>Which of the following is <i>not</i> true for Mahatma Gandhi National Rural Employment Gurantee Act ?</p> <p>(1) Gurantees 100 days of employment per family  (2) Gurantees 100 days of employment per persion  (3) Payment is based on 'piece rate' system  (4) Use of heavy machinery is not allowed</p> <p>महात्मा गांधी राष्ट्रीय ग्रामीण रोज़गार गारंटी अधिनियम के लिए निम्नलिखित में से कौन-सा सत्य नहीं है</p> <p>(1) प्रति परिवार 100 दिन रोज़गार की गारंटी देता है  (2) प्रति व्यक्ति 100 दिन रोज़गार की गारंटी देता है  (3) भुगतान 'पीस रेट' प्रणाली पर आधारित है  (4) भारी मशीनरी का उपयोग स्वीकृत नहीं है</p>
85.	<p>'De-industrialisation' is a term associated with</p> <p>(1) First three plans                      (2) Fourth to eighth plan  (3) British India                              (4) Mughal India</p> <p>'वि उद्योगीकरण' पद संबंधित है</p> <p>(1) प्रथम तीन योजनाओं के साथ      (2) चौथी से आठवीं योजना  (3) ब्रिटिश भारत                              (4) मुगल भारत</p>
86.	<p>In a square room 6 feet long, how many mats of two feet width and length 1.5 times the width can be placed ?</p> <p>(1) 6    (2) 12  (3) 8    (4) None of these</p> <p>एक 6 फीट लंबे वर्गाकार कमरे में, दो फीट चौड़े तथा चौड़ाई के 1.5 गुणा लम्बाई की कितनी दरियां बिछाई जा सकती हैं ?</p> <p>(1) 6    (2) 12  (3) 8    (4) इनमें से कोई नहीं</p>

Question No.	Questions
87.	<p>Square root of 5 is closest to</p> <p>(1) 3                      (2) 2                      (3) 2.3                      (4) 2.2</p> <p>5 का वर्गमूल निकटतम है</p> <p>(1) 3 के                      (2) 2 के                      (3) 2.3 के                      (4) 2.2 के</p>
88.	<p>If a treasure is divided between A, B and C in such a way that B gets <math>\frac{1}{2}</math> of what A gets and C gets half of what B gets, then</p> <p>(1) A gets half of treasure                      (2) B gets <math>\frac{1}{4}</math> th of treasure</p> <p>(3) C gets <math>\frac{1}{7}</math> th of treasure                      (4) None of the above</p> <p>यदि A, B तथा C के बीच कोई खजाना इस प्रकार से विभाजित है कि B को A का <math>\frac{1}{2}</math> मिलता है तथा C को B का आधा मिलता है, तब</p> <p>(1) A को खजाने का आधा मिलता है                      (2) B को खजाने का <math>\frac{1}{4}</math> मिलता है</p> <p>(3) C को खजाने का <math>\frac{1}{7}</math> मिलता है                      (4) उपरोक्त में कोई नहीं</p>
89.	<p>In economics, very long run means</p> <p>(1) a period of at least 10 years</p> <p>(2) time period after 10 years</p> <p>(3) time period after 20 years</p> <p>(4) None of the above</p> <p>अर्थशास्त्र में, बहुत दीर्घ अवधि का अर्थ है</p> <p>(1) कम से कम 10 वर्ष की अवधि                      (2) 10 वर्ष के बाद की समयावधि</p> <p>(3) 20 वर्ष के बाद की समयावधि                      (4) उपरोक्त में से कोई नहीं</p>

Question No.	Questions
90.	<p>By 'normal' goods, we mean</p> <ol style="list-style-type: none"> <li>(1) goods used by normal persons</li> <li>(2) goods which normally all people use</li> <li>(3) Whose demand decreases with increase in prices</li> <li>(4) Whose demand increases with increase in income</li> </ol> <p>'सामान्य' वस्तुओं से, हमारा अभिप्राय है</p> <ol style="list-style-type: none"> <li>(1) साधारण व्यक्ति द्वारा उपयोग की जाने वाली वस्तु</li> <li>(2) वस्तु जो साधारणतः सभी लोग उपयोग करते हैं</li> <li>(3) जिसकी मांग मूल्य में वृद्धि के साथ घटती है</li> <li>(4) जिसकी मांग आय में वृद्धि के साथ बढ़ती है</li> </ol>
91.	<p>In short run, a firm can make losses and yet continue to produce</p> <ol style="list-style-type: none"> <li>(1) True</li> <li>(2) True only under some market structures</li> <li>(3) False</li> <li>(4) Cannot say</li> </ol> <p>लघु अवधि में, एक फर्म नुकसान उठाकर उत्पादन कर सकती है</p> <ol style="list-style-type: none"> <li>(1) सत्य</li> <li>(2) कुछ बाजार संरचनाओं के लिए सत्य</li> <li>(3) असत्य</li> <li>(4) कह नहीं सकते</li> </ol>



Question No.	Questions
92.	<p>By real income we mean</p> <p>(1) Income after reducing taxes</p> <p>(2) Salary plus bribes collected minus taxes</p> <p>(3) Both of the above</p> <p>(4) None of the above</p> <p>वास्तविक आय से हमारा अभिप्राय है</p> <p>(1) कर घटाने के बाद आय</p> <p>(2) कर घटाकर वेतन तथा एकत्रित रिश्वत</p> <p>(3) उपरोक्त दोनों</p> <p>(4) उपरोक्त में से कोई नहीं</p>
93.	<p>Which of the following cost curves can never have 'U' shape ?</p> <p>(1) Total fixed cost                      (2) Total cost curve</p> <p>(3) Average fixed cost                      (4) All of the above</p> <p>निम्नलिखित में से किस लागत वक्र का आकार 'U' आकार का कभी नहीं हो सकता ?</p> <p>(1) कुल स्थाई लागत                      (2) कुल लागत वक्र</p> <p>(3) औसत स्थिर लागत                      (4) उपरोक्त सभी</p>
94.	<p>In case of perfectly competitive factor as well as product markets, with increase in <math>MSP_L</math>, wage rate will</p> <p>(1) increase                                      (2) decrease</p> <p>(3) remain constant                              (4) All of the above are possible</p> <p>पूर्ण प्रतियोगी साधन के साथ-साथ उत्पाद बाजारों के मामले में, <math>MSP_L</math> के बढ़ने के साथ, मजदूरी दर</p> <p>(1) बढ़ेगी    (2) घटेगी</p> <p>(3) स्थिर रहेगी                                      (4) उपरोक्त सभी संभव है</p>

Question No.	Questions
95.	<p>In an oligopolistic market, key characteristic it</p> <p>(1) product homogeneity (2) recognition of interdependence  (3) both of the above (4) none of the above</p> <p>अल्पाधिकारी बाज़ार में, मुख्य विशेषता है</p> <p>(1) उत्पाद समरूपता (2) अंतर्निर्भरता की पहचान  (3) उपरोक्त दोनों (4) उपरोक्त में से कोई नहीं</p>
96.	<p>If average cost is rising, then marginal cost</p> <p>(1) is rising at a faster rate (2) is rising at slower rate  (3) may be falling (4) all of the above are possible</p> <p>यदि औसत लागत बढ़ रही है, तब सीमांत लागत</p> <p>(1) तीव्रतर दर से बढ़ रही है (2) धीमी दर से बढ़ रही है  (3) हो सकता है घट रही हो (4) उपरोक्त सभी संभव है</p>
97.	<p>When we use term 'profit', it means</p> <p>(1) Normal profit (2) Supernormal profit  (3) Both of the above (4) None of the above</p> <p>जब हम 'लाभ' पद का उपयोग करते हैं, इसका अभिप्राय है</p> <p>(1) सामान्य लाभ (2) अधिसामान्य लाभ  (3) उपरोक्त दोनों (4) उपरोक्त में से कोई नहीं</p>
98.	<p>Higher the slope of a traditionally drawn demand curve, absolute value of price elasticity of demand will be</p> <p>(1) lower (2) higher  (3) nothing can be said (4) none of the above</p> <p>परम्परागत रूप से बनाए गए मांग वक्र का ढाल जितना अधिक होगा, मांग की मूल्य लोच का परम मान होगा</p> <p>(1) न्यूनतर (2) उच्चतर  (3) कुछ कहा नहीं जा सकता (4) उपरोक्त में से कोई नहीं</p>

Question No.	Questions
99.	<p>Marginal Revenue (MR) and marginal Revenue product (MRP)</p> <p>(1) mean the same</p> <p>(2) mean the same under some conditions</p> <p>(3) mean different things</p> <p>(4) may mean same or different things depending on market structures</p> <p>सीमांत आय (MR) तथा सीमांत आय उत्पाद (MRP)</p> <p>(1) का अभिप्राय एक समान है</p> <p>(2) का कुछ शर्तों के अधीन अभिप्राय समान है</p> <p>(3) अलग वस्तुओं से अभिप्राय है</p> <p>(4) समान अभिप्राय हो अथवा अलग बाजार संरचना पर निर्भर करता है</p>
100.	<p>Which of the following is <i>not</i> treated as 'Production' in modern economics?</p> <p>(1) Teaching in a Government School</p> <p>(2) Banking</p> <p>(3) Defence Services</p> <p>(4) None of the above</p> <p>आधुनिक अर्थशास्त्र में निम्न में से किसे 'उत्पादन' के रूप में नहीं लिया जाता ?</p> <p>(1) सरकारी विद्यालय में अध्यापन</p> <p>(2) बैंकिंग</p> <p>(3) रक्षा सेवाएं</p> <p>(4) उपरोक्त में से कोई नहीं</p>